

ОТВЕТЫ ДЛЯ 8 КЛАССА

1. Эстонская команда едет в Австралию в город Брисбен на олимпиаду. В 7.10 они вылетают из Риги в Вену, куда прибывают в 8.10. Оттуда в 10.30 они вылетают в Сингапур, и летят 11 часов. Из Сингапура они вылетят в 9.30 и приземлятся в Брисбене в 19.30.

- a) Во сколько спортсмены придут в Сингапур? *Ночью в 3.30*
 b) Сколько часов длится полет из Сингапура в Брисбен? *7 часов*
 c) Сколько часов спортсмены проведут в воздухе? *20 часов*
 e) Сколько всего часов длится рейс из Риги в Сингапур? *28 часов 20 минут*

4 б

2. Приведи пример того, как климат влияет на рельеф и как рельеф влияет на климат.

4 б

Влияние климата на рельеф:

- Например: жаркий и влажный климат способствует химическому выветриванию и быстрому выносу его продуктов, быстрой эрозии.*
- В холодном климате (в тундре) преобладает физическое выветривание; оттаивание мерзлого грунта приводит к возникновению своеобразных форм рельефа и пр.*

Влияние рельефа на климат:

- В горах температура понижается с высотой.*
- Наветренные и подветренные склоны получают неодинаковое количество осадков и пр.*

3. Что это за место?

В этом городе солнце бывает в зените 23 сентября. В тот момент, когда солнце находится там в высшей точке своего дневного пути, на Гринвичском меридиане часы показывают 17:14 (всемирное время). **3 б**

Это место (город) *Кито*

Государство: *Эквадор*

В этом городе в этот момент *12.00 часов*

Материк: *Южная Америка*

Координаты этого места: $0^{\circ}S$ и $78^{\circ}W$

Часть света: *Америка*

4. Заполни таблицу

4 б

НАЗВАНИЕ ОСТРОВА	ГОСУДАРСТВО, КОТОРОМУ ПРИНАДЛЕЖИТ ОСТРОВ	КООРДИНАТЫ ЦЕНТРА ОСТРОВА	КЛИМАТИЧЕСКИЙ ПОЯС	ПРИРОДНАЯ ЗОНА
Мэн	<i>Великобритания</i>	<i>$54^{\circ} N 4,5^{\circ} W$</i>	<i>умеренный пояс</i>	<i>зона лиственных лесов</i>
Ямайка	<i>Ямайка</i>	<i>$18^{\circ} N 77^{\circ} W$</i>	<i>тропический пояс</i>	<i>сезонно-влажный тропический лес</i>

5. Объясни понятие «Океания».

1 б

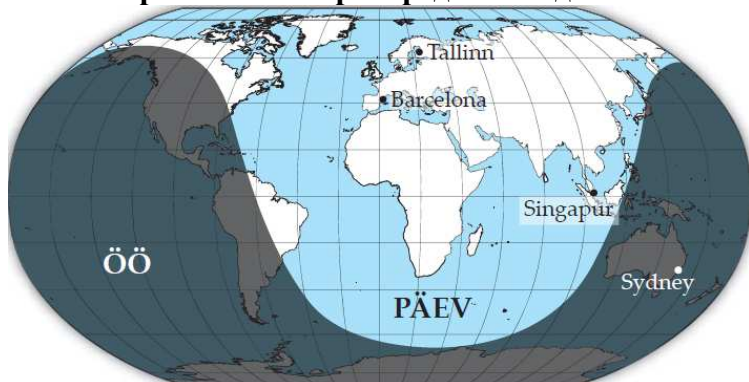
Острова в Тихом океане; островная часть части света Австралия и Океания и др. правильные ответы.

Для климата Океании характерны незначительные колебания температуры, как суточные, так и в течение года

Объясни, почему это так. *Океания расположена преимущественно между тропиками, где солнце большую часть года находится вблизи зенита.*

2 б

6. На карте показано распределение дня и ночи.



Подчеркни правильный ответ.

a) Для какого месяца характерна это распределение?

март, июнь, сентябрь, декабрь 1 б.

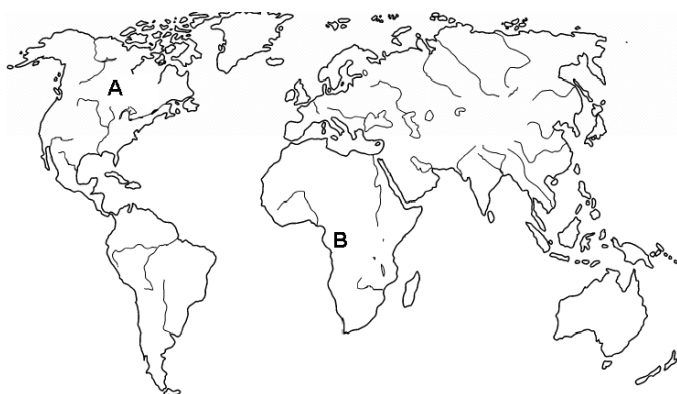
b) Где в это время день длиннее?

1) В Таллинне или Барселоне?

2) В Сингапуре или в Сиднее? 1 б.

7. На карте буквами А и В отмечены две географические области. Что это за области?

Объясни подробнее, чем вызвана их засушливость или переувлажненность.



Высокая влажность в области ___В

1 б

Засушлива область ___А

Область А это Юг Канады, север и центр США и пр.

Объяснение. Сухость обусловлена континентальностью климата, изоляцией от западных ветров

2 б

Область В это Бассейн Конго, дождевые экваториальные леса Африки и пр.

Объяснение. Обильные осадки вследствие высокой температуры и интенсивного испарения, устойчивая область низкого давления.

2 б

8. Подчеркни правильный ответ!

4 б

1) Какому государству принадлежат Каймановы острова (Cayman Islands)?

Австралия Великобритания США Франция

2) Какое из перечисленных государств член ЕС?

Кипр Норвегия Швейцария Исландия

3) Ни одно место на основной территории Дании не расположено от моря дальше:

500 км 50 км 100 км 1000 км

4) Самая западная точка Европейского Союза это

мыс Рокка Гваделупа Москва Ян-Майен

9. Охарактеризуй географическое положение Эстонии.

2 б

Эстония расположена

- 1) в Северном полушарии
- 2) в Восточном полушарии
- 3) на материке Евразия и в части света Европа
- 4) на берегу Балтийского моря
- 5) в восточно-европейском часовом поясе
- 6) другие правильные ответы

**10. Посмотри на карту и ответь на вопросы.
3 б**

Как изменяется соленость воды в разных частях Балтийского моря?

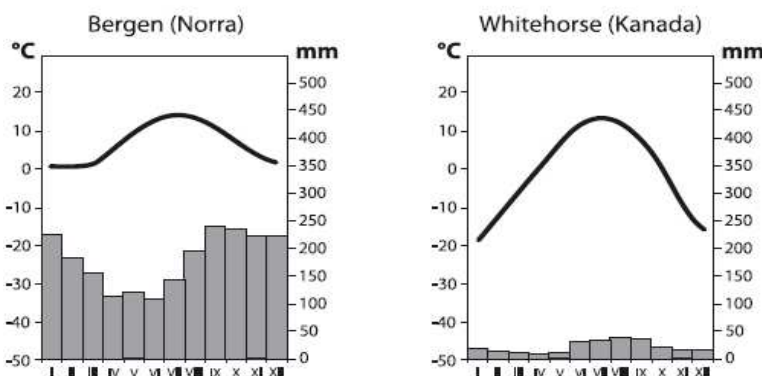
Море солонее всего возле Датских проливов, и наиболее пресное в дальних частях Финского и Ботнического заливов.

Почему бухты у Петербурга и Оулу почти пресные?

В них вливаются крупные реки (пресная вода); соленая океанская вода не достигает их в несмешанном виде.



11. Норвежский город Берген (Bergen) и Канадский город Уайтхорс (Whitehorse) расположены почти на одной широте.



На основе климатической диаграммы, назови два существенных различия между климатом Бергена и Уайтхорса. **2 б**

- 1) В Бергене выпадает больше осадков, чем в Уайтхорсе.
 - 2) Годовое колебание температуры в Бергене меньше, чем в Уайтхорсе.
- Каждый правильный обобщающий ответ дает 1 балл. Если в ответе указаны только детали, например, разница в температуре или осадках какого-либо месяца, то дается по 0,5 балла.*

Назови две причины климатических различий этих городов.

2 б

- 1) Уайтхорс расположен выше Бергена.
- 2) Берген расположен на побережье, а Уайтхорс вдали от моря.
- 3) Берген расположен на наветренном склоне Скандинавского нагорья, а Уайтхорс в межгорной долине.

4) Берген расположен на побережье, омываемом теплым течением, а Уайтхорс вдали от моря и пр.

В какой стороне света расположен Уайтхорс, глядя из Бергена? *На западе* **1 б**

12. На карте показаны значения температуры воздуха днем. Для какого времени года типична эта картина: для весны или для осени.

2 б

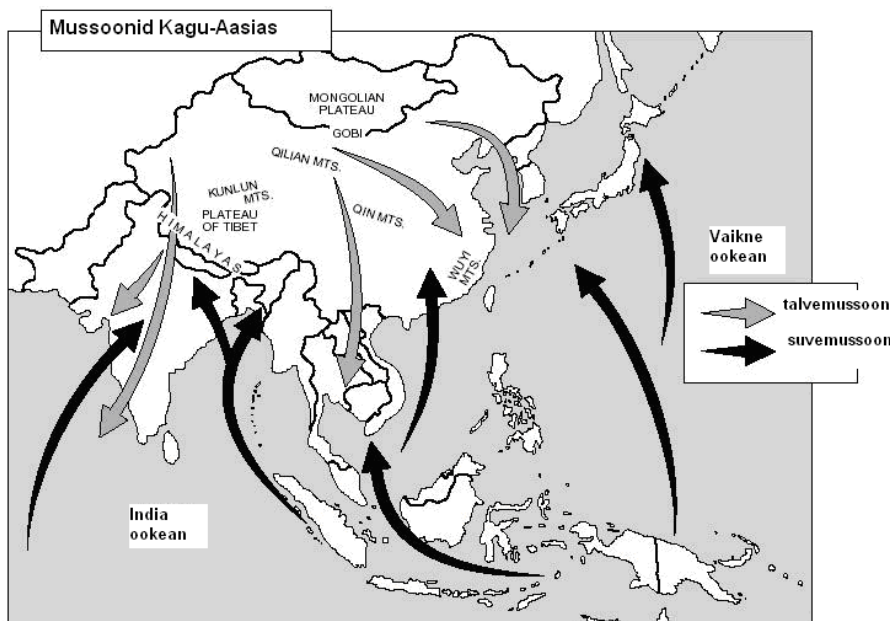
Температуры типичны для осени.

Обоснование: температуры прибрежных районов выше, так как море остывает медленнее суши.

Если ученик укажет в обосновании только разницу температур, то за задание ему ставится 1 балл.

13. На карте показана система ветров в Восточной и Юго-Восточной Азии. Напиши наиболее точное название карты, а также названия ветров в легенду.

3 б



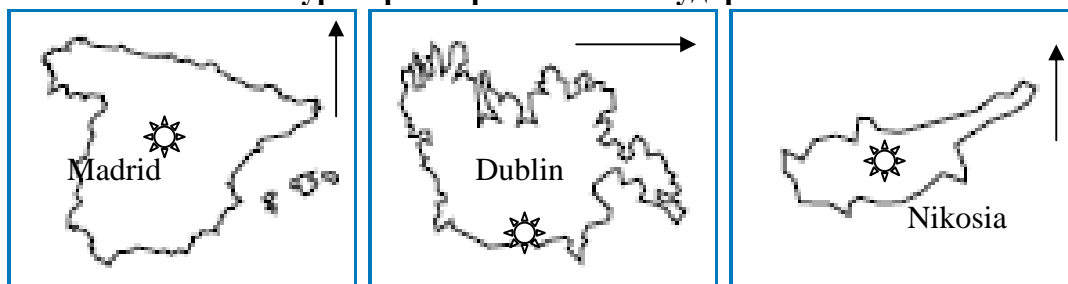
Полное название карты дает 2 балла. Легенда до 1 балла.

За слишком общее название ставится 1 балл.

Если в легенде указан «морской» муссон и «материковый» муссон, то балл не ставится.

Муссоны в Юго-Восточной Азии зимний муссон летний муссон

14. На схемах показаны контуры трех европейских государств.



Государства: *Испания*

Ирландия

Кипр

Характеристики: *A D*

B C E H

F I J

3 б

- 1) Укажи на каждой схеме направление на север. **1 б**
- 2) Напиши под каждым контуром полное название страны. **1 б**
Отметь расположение столицы и напиши ее название. **1 б**
- 3) Распредели перечисленные ниже характеристики между странами, написав соответствующие буквы под их названиями (1 характеристика лишняя!).
- A Крупнейший в мире производитель апельсинов
- B Член ЕС с 1973 года
- C Примерно 50% родившихся в этой стране людей живет за ее пределами
- D 12 октября государственный праздник (в связи с географическим событием 1492 г.)
- E 81% суши занят сельскохозяйственными угодьями
- F Согласно легенде, здесь самые древние вина (2000 г до н.э.)
- G 70% территории страны покрыто лесами ЛИШНЯЯ (Финляндия)**
- H В этой стране зеленый цвет считается счастливым
- I Эта страна в одном часовом поясе с Эстонией
- J 1/3 территории страны оккупирована соседним государством.

ВСЕГО 50 БАЛЛОВ